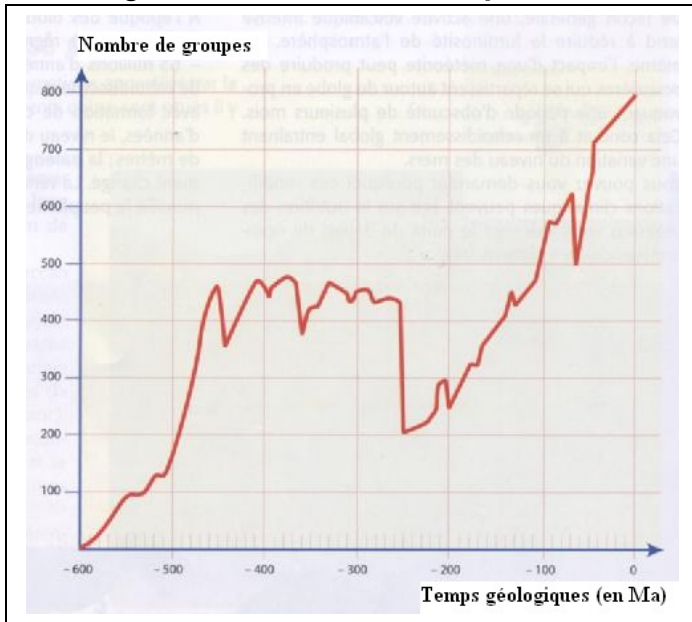
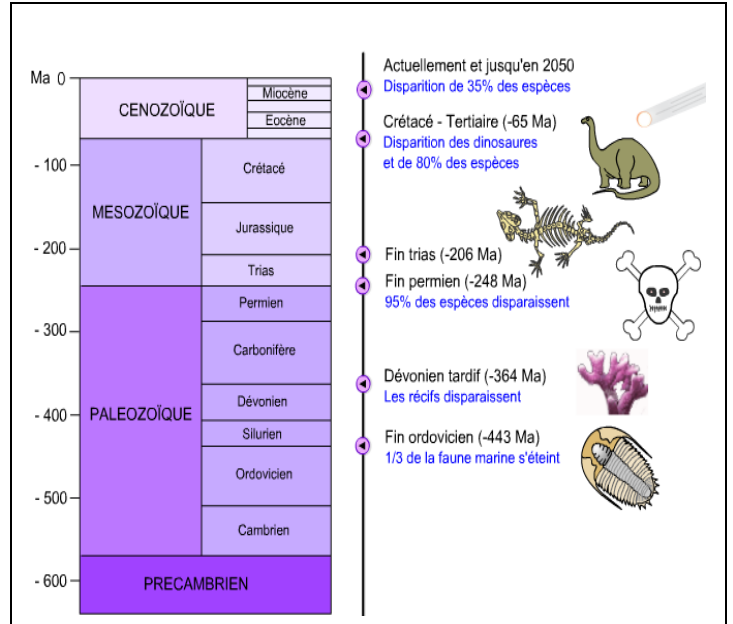


LES GRANDES CRISES BIOLOGIQUES

« Organiser les informations pour montrer les transformations brutales de la biodiversité »



Doc 1 : évolution du nombre de groupes au cours des temps géologiques



Doc 2 : extrait de « biologie en flash »

En vous aidant de l'animation en ligne flash player : <http://www.biologieenflash.net/animation.php?ref=geo-0082-3>

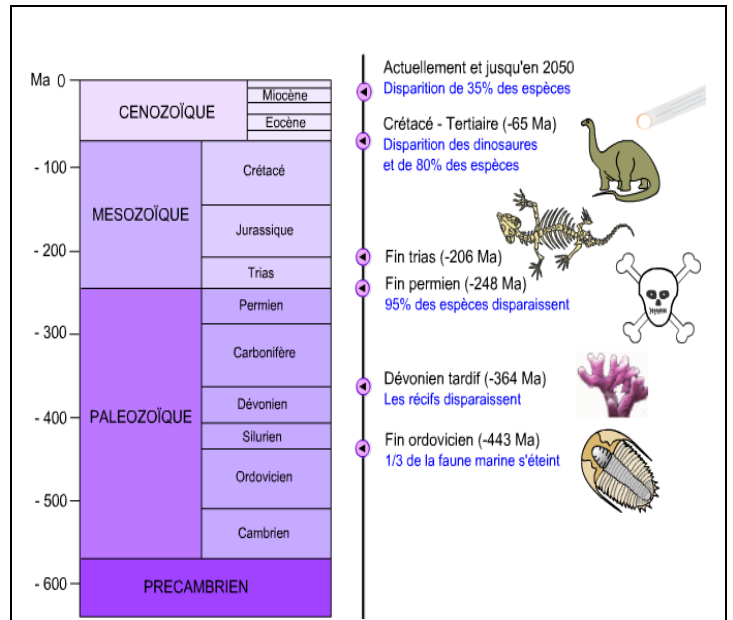
- Repérez par une flèche sur le graphique les deux crises majeures de la biodiversité.
- Indiquez le pourcentage d'espèces qui ont disparu au cours de chacune de ces crises.
- Citez pour chaque grande crise un grand groupe qui s'est éteint.

LES GRANDES CRISES BIOLOGIQUES

« Organiser les informations pour montrer les transformations brutales de la biodiversité »



Doc 1 : évolution du nombre de groupes au cours des temps géologiques



Doc 2 : extrait de « biologie en flash »

En vous aidant de l'animation en ligne flash player : <http://www.biologieenflash.net/animation.php?ref=geo-0082-3>

- Repérez par une flèche sur le graphique les deux crises majeures de la biodiversité.
- Indiquez le pourcentage d'espèces qui ont disparu au cours de chacune de ces crises.
- Citez pour chaque grande crise un grand groupe qui s'est éteint.